



**AZAD CGPSC  
ACADEMY**

**AZAD CGPSC ACADEMY**

**Unit Of Azad Group**

**Ranking**

**AZAD CGPSC  
ACADEMY**

**Q 1:-** एक पंक्ति में राम का स्थान **left** से 6वां और **Right** से 15वां है तो बताइये पंक्ति में कुल कितने लड़के हैं।

**Solution:-**



**AZAD CGPSC  
ACADEMY**

**Q 2:-** एक पंक्ति में अजय का स्थान दोनों सिरों से 7वाँ है। तो पंक्ति में कितने लड़के हैं।

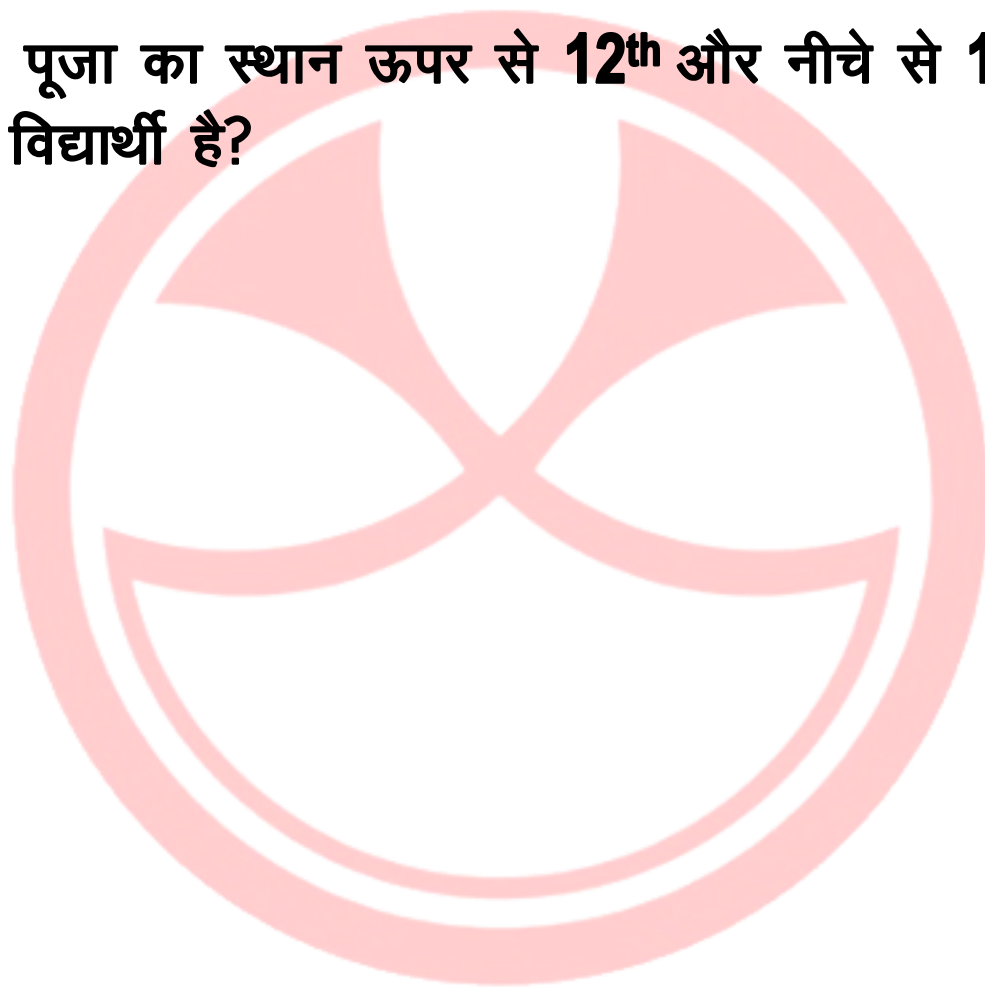
**Solution:-**



**AZAD CGPSC  
ACADEMY**

**Q 3:-** एक कक्षा में पूजा का स्थान ऊपर से 12<sup>th</sup> और नीचे से 15<sup>th</sup> हैं तो कक्षा में कुल कितने विद्यार्थी है?

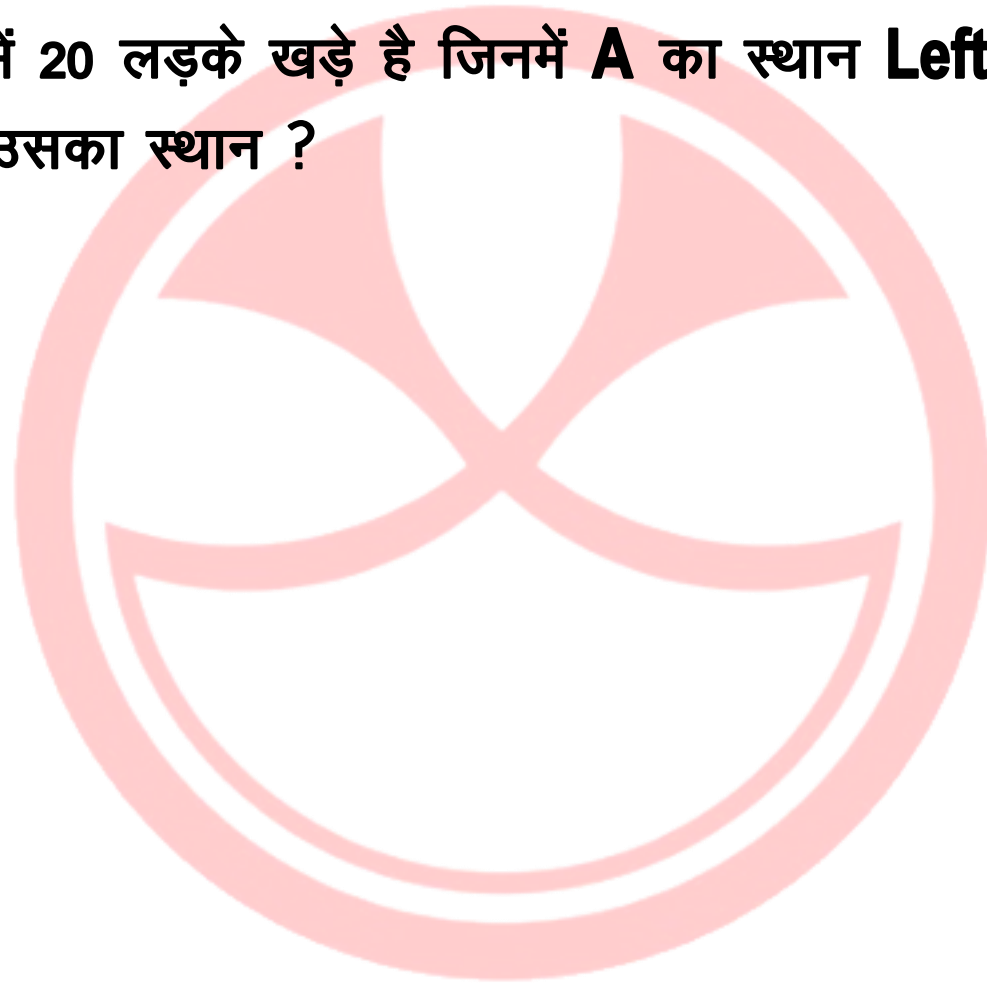
**Solution:-**



**AZAD CGPSC  
ACADEMY**

**Q 4:-** एक पंक्ति में 20 लड़के खड़े हैं जिनमें **A** का स्थान **Left** से **11<sup>th</sup>** हैं तो **Right** से उसका स्थान ?

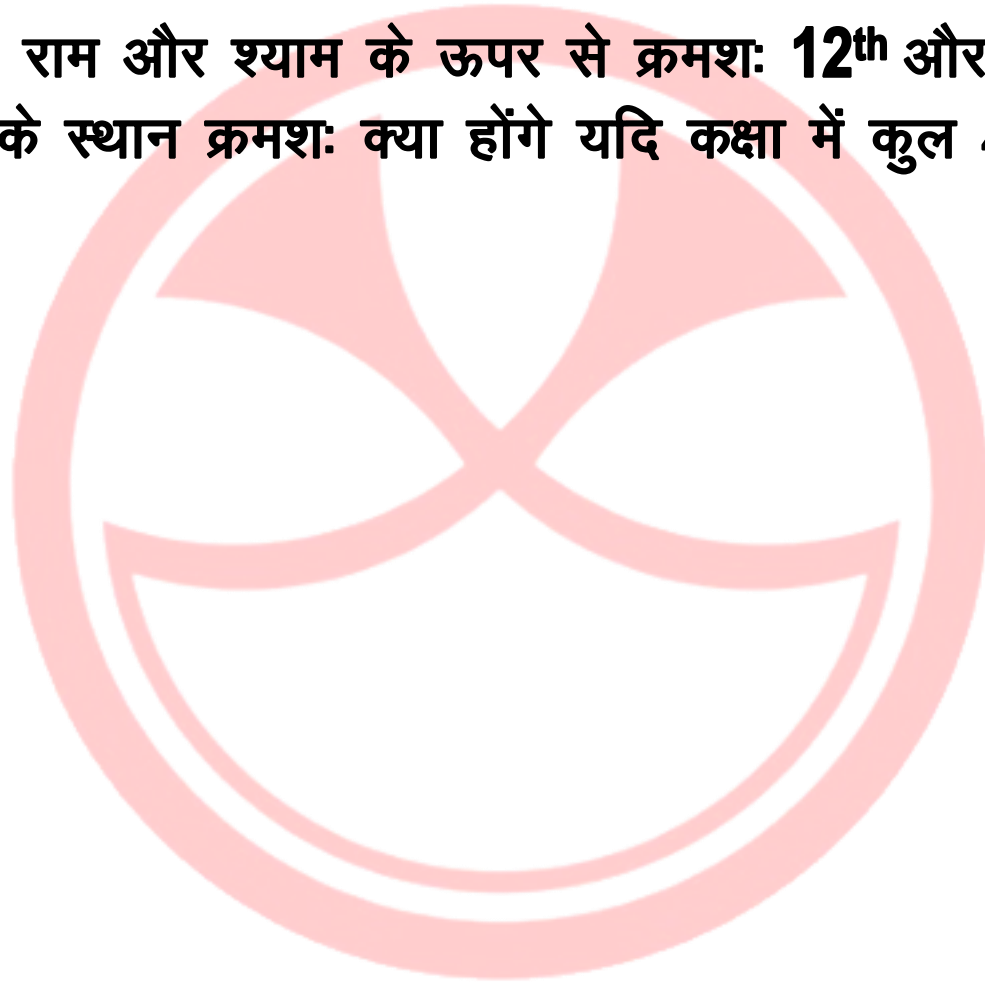
**Solution:-**



**AZAD CGPSC  
ACADEMY**

**Q 5:-** एक कक्षा में राम और श्याम के ऊपर से क्रमशः 12<sup>th</sup> और 18<sup>th</sup> है तो बताइये नीचे से उनके स्थान क्रमशः क्या होंगे यदि कक्षा में कुल 40 विद्यार्थी हैं?

**Solution:-**



**AZAD CGPSC  
ACADEMY**

**Q 6:-** एक पंक्ति में रवि **Left** से **5<sup>th</sup>** स्थान पर और सूरज **Right** से **7<sup>th</sup>** स्थान पर है। यदि दोनों के स्थान आपस में बदल दिये जाये तो रवि **Left** से **15<sup>th</sup>** हो जाता है तो पंक्ति में कितने लड़के हैं?

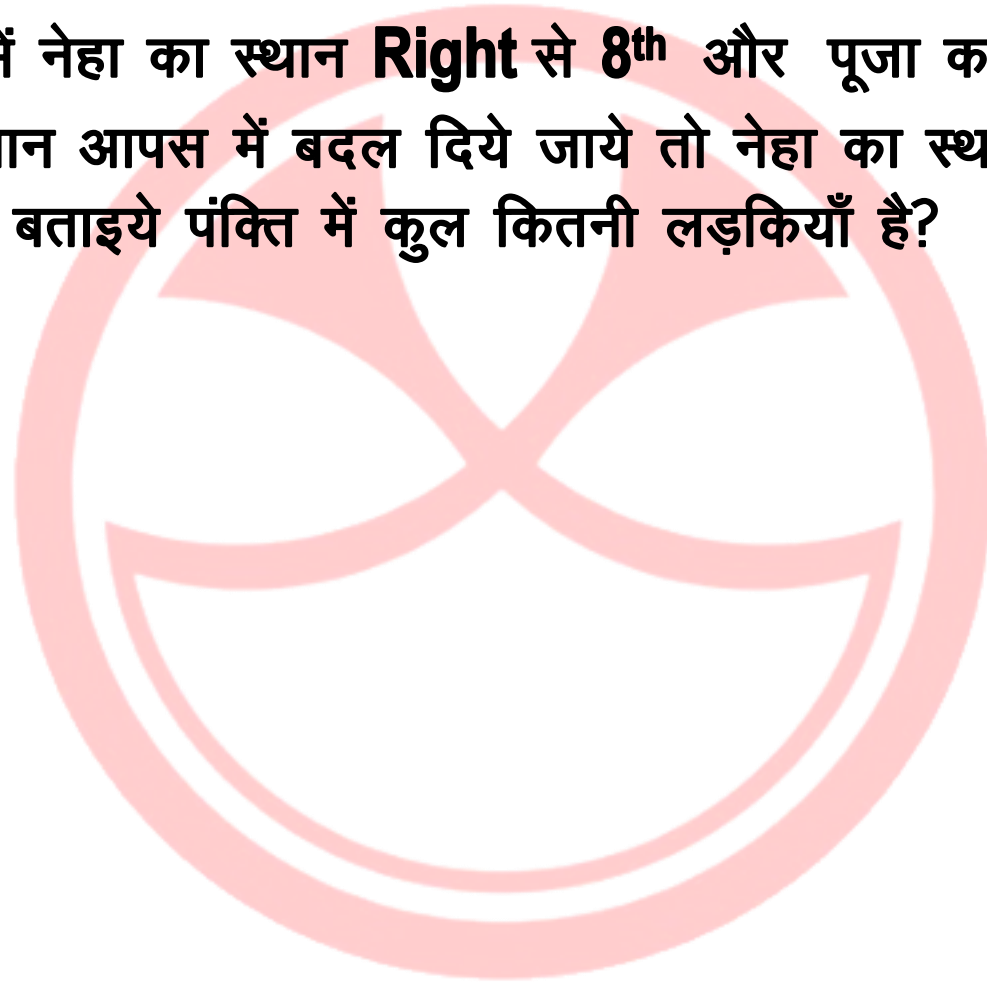
**Solution:-**



**AZAD CGPSC  
ACADEMY**

**Q 6:-** एक पंक्ति में नेहा का स्थान **Right** से 8<sup>th</sup> और पूजा का **Left** से 9 है। जब दोनों के स्थान आपस में बदल दिये जाये तो नेहा का स्थान **Right** से 17 हो जाता है तो बताइये पंक्ति में कुल कितनी लड़कियाँ हैं?

**Solution:-**



**AZAD CGPSC  
ACADEMY**



**Q 7:-** एक पंक्ति में **A** का स्थान **left** से **6<sup>th</sup>** और **B** का **Right** से **5<sup>th</sup>** है।  
यदि स्थान आपस में बदल दिया जाये तब **A** का स्थान **left** से **16<sup>th</sup>** हो  
जाता है तो पहले **A** का स्थान **Right** से कितना था

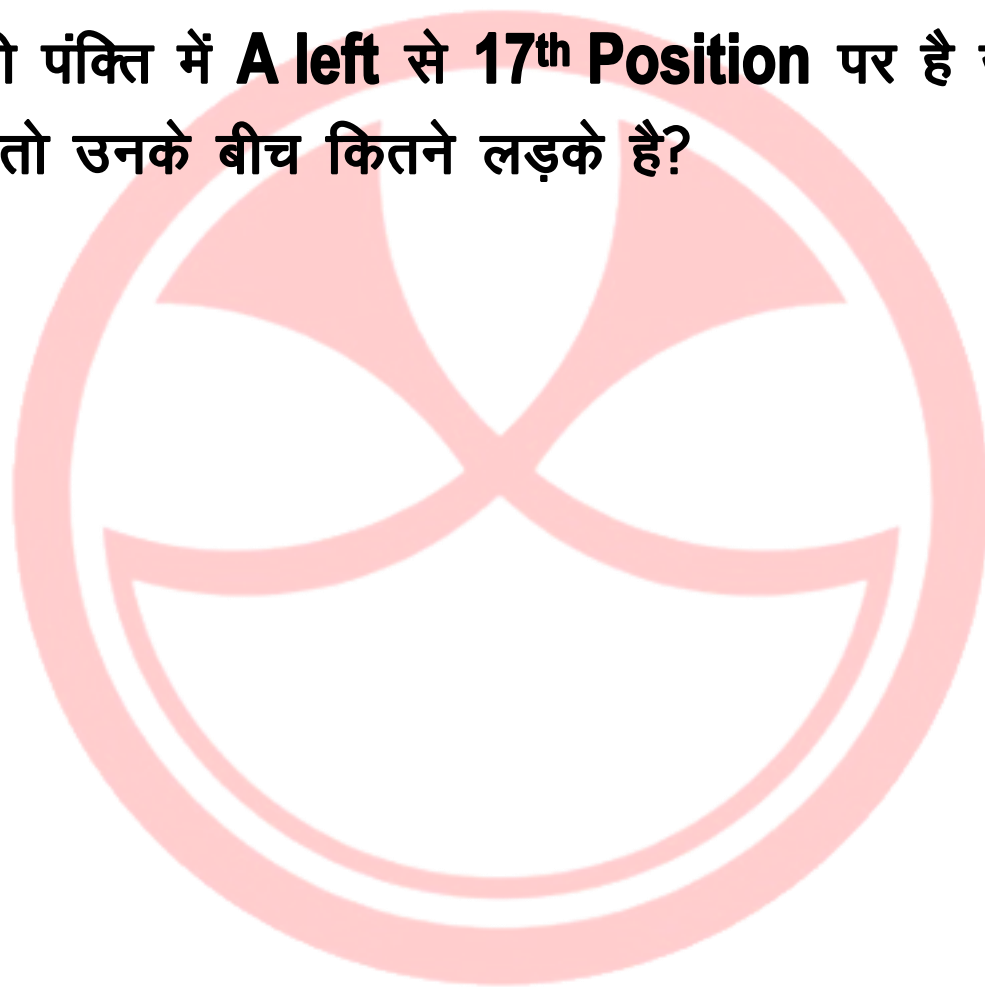
**Solution:-**



**AZAD CGPSC  
ACADEMY**

**Q 8:-** 24 लोगों की पंक्ति में **A left** से **17<sup>th</sup> Position** पर है जबकि **B Right** से **17<sup>th</sup>** पर है तो उनके बीच कितने लड़के हैं?

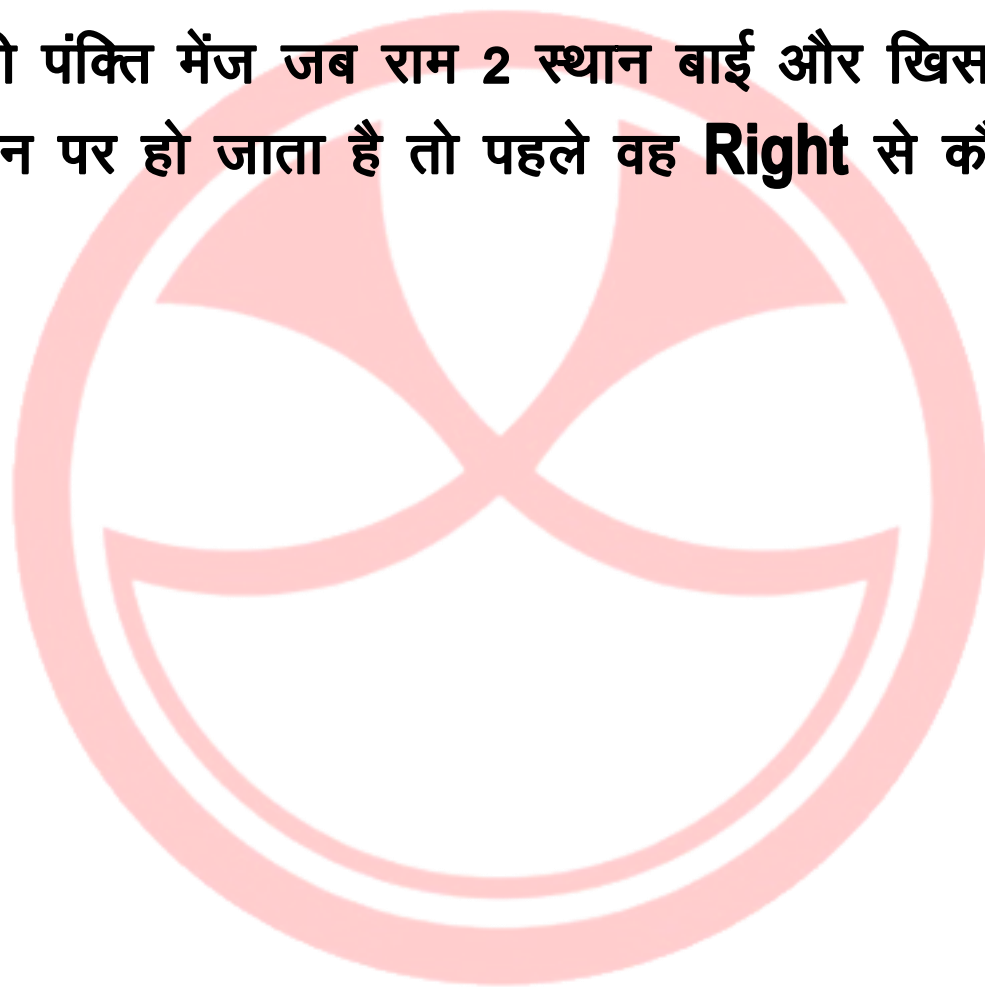
**Solution:-**



**AZAD CGPSC  
ACADEMY**

**Q 9:-** 17 लोगों की पंक्ति में जब राम 2 स्थान बाई और खिसकता हैं तो वह **left** से 5<sup>th</sup> स्थान पर हो जाता है तो पहले वह **Right** से कौन से स्थान पर था।

**Solution:-**



**AZAD CGPSC  
ACADEMY**

**Q 10:-** एक पंक्ति में **A left** से **6<sup>th</sup> Place** पे है जबकि **B Right** से **7<sup>th</sup> Place** पे है और दोनों के ठीक बीच में **C** है। तो पंक्ति में न्यूनतम कितने व्यक्ति है।

**(a) 15**

**(b) 16**

**(c) 17**

**(d) 18**

**Solution:-**

**AZAD CGPSC  
ACADEMY**

**Q 11:-** एक पंक्ति में **A left** से **7<sup>th</sup> Place** पे है जबकि **B Right** से **9<sup>th</sup> Place** पे है **C A** के ठीक **left** में है । यदि **A** और **B** के मध्य 3 लड़के है तो बताइये पंक्ति में दायी ओर से **C** का **Position** ?

**Solution:-**



**AZAD CGPSC  
ACADEMY**

**Q 12:-** एक कक्षा में शैलेस का स्थान ऊपर से 12 जबकि मोहन का स्थान नीचे से 15<sup>th</sup> है। रवि जो शैलेस से 3 स्थान नीचे है और मोहन से 5 स्थान ऊपर है तो कक्षा में कुल कितने विद्यार्थी है?

**Solution:-**



**AZAD CGPSC  
ACADEMY**

**Q 13:-** एक कक्षा में 60 विद्यार्थियों में लड़कियों की संख्या लड़कों से दोगुनी है।  
अजय का स्थान ऊपर से 17<sup>th</sup> है। यदि अजय के आगे 9 लड़कियाँ खड़ी हैं।  
तो बताइये अजय के पीछे कितने लड़के खड़े हैं।

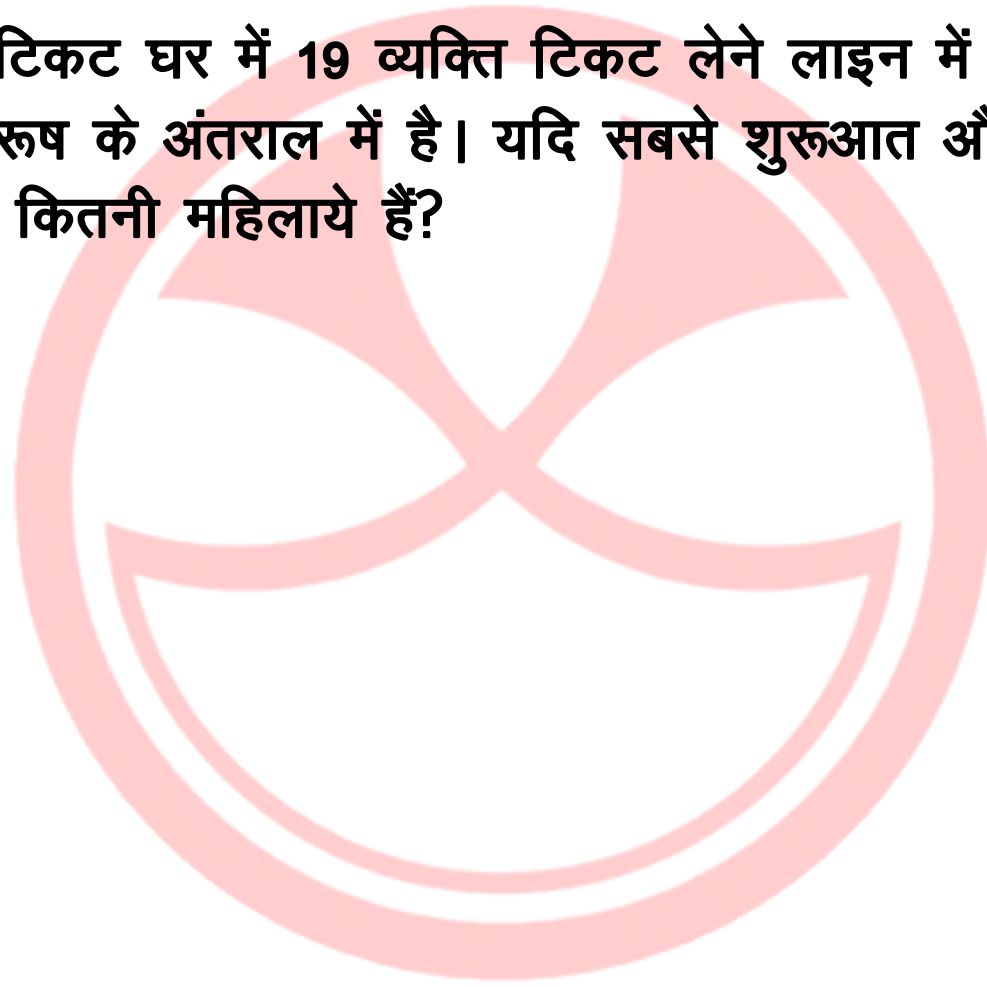
**Solution:-**

A large, faint watermark logo is centered on the page. It consists of a circular emblem with a stylized, symmetrical design inside, resembling a flower or a traditional symbol. Below the emblem, the text "AZAD CGPSC ACADEMY" is written in a bold, blue, sans-serif font, arranged in two lines.

**AZAD CGPSC  
ACADEMY**

**Q 14:- PVR के टिकट घर में 19 व्यक्ति टिकट लेने लाइन में खड़े है जिसमें 1 महिला 1 पुरुष के अंतराल में है। यदि सबसे शुरूआत और अंत में महिला है तो पंक्ति में कितनी महिलाये हैं?**

**Solution:-**

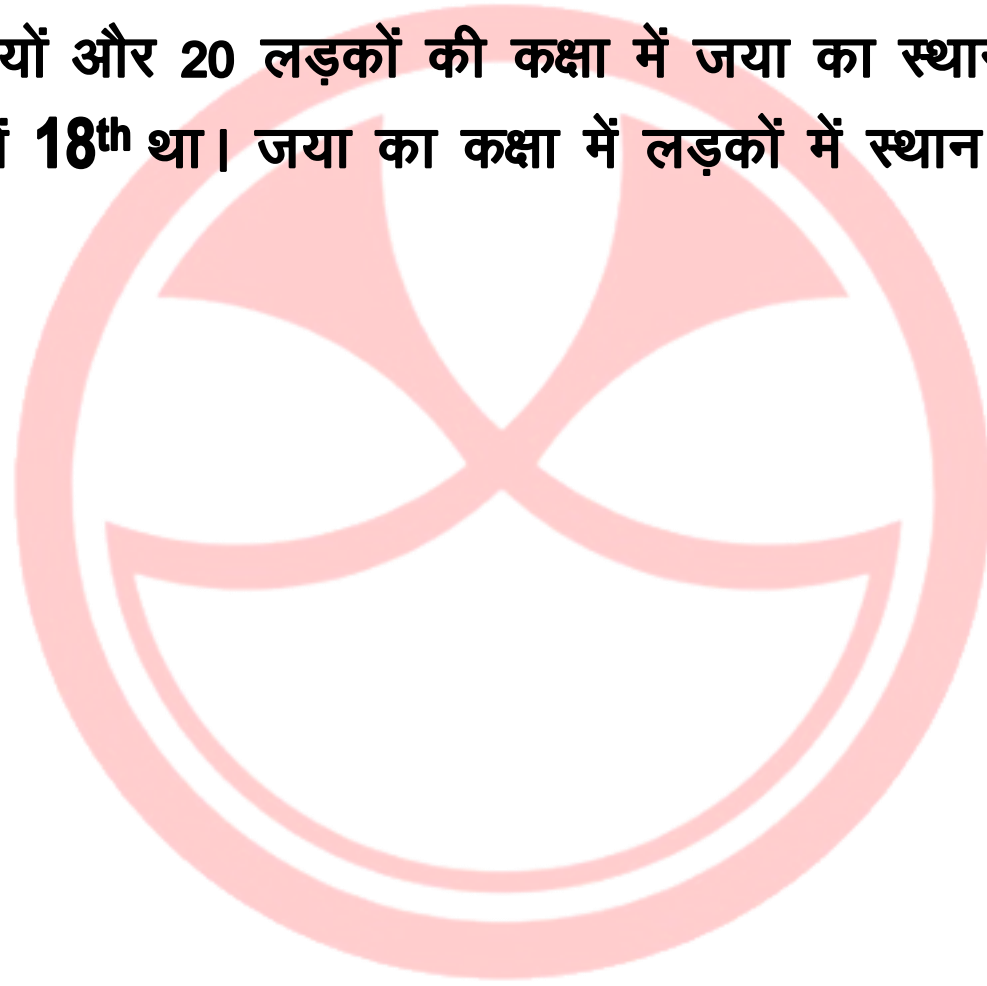


**AZAD CGPSC  
ACADEMY**



**Q 15:-** 10 लड़कियों और 20 लड़कों की कक्षा में जया का स्थान लड़कियों में 4<sup>th</sup> और कक्षा में 18<sup>th</sup> था। जया का कक्षा में लड़कों में स्थान कितना होगा?

**Solution:-**



**AZAD CGPSC  
ACADEMY**



AZAD IAS  
ACADEMY

## Online/ Offline Batch

IAS,UPPCS, RO/ARO, BPSC, UKPSC, CGPSC,  
MPPSC, RPSC, JPSC Exam की आसान भाषा  
में सम्पूर्ण तैयारी के लिए Azad IAS Academy  
App Download कीजिए

 [www.azadiasacademy.com](http://www.azadiasacademy.com)

 M.9115269789



Azad Publication  
PVT. LTD. (REGD. IN INDIA)

## Our Publication

अब आप सभी घर बैठे ही IAS,UPPSC,BPSC,  
MPPSC, RAS,CGPSC,UKPSC,JPSC,UPSSSC Exam  
एवं सभी प्रतियोगी परीक्षाओं की  
बुक आर्डर कर सकते है, समग्र भारत में  
पुस्तकों की Delivery उपलब्ध है,

 [www.azadpublication.com](http://www.azadpublication.com)

 M.8929821970



## Our Foundation

Azad Publication, Azad Group का  
Charitable Trust है जिसका मुख्य लक्ष्य  
राष्ट्र की सामाजिक समस्याओं के निदान  
के निदान हेतु प्रखर रूप से कार्य करना हेतू हैं  
एवं पर्यावरण संरक्षण, पशु सेवा, आपदा रहित,  
शिक्षा, स्वास्थ्य एवं विभिन्न जन समस्याओं का  
जन जागरूकता के माध्यम से राष्ट्र से में अग्रणी  
भूमिका निभानी हैं।

 [www.azadfoundation.net](http://www.azadfoundation.net)

 [Unitofazadgroup@gmail.com](mailto:Unitofazadgroup@gmail.com)

# AZAD CGPSC ACADEMY